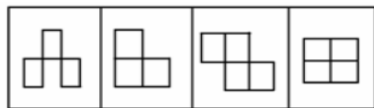


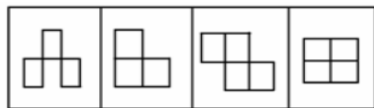
綜合測驗試題

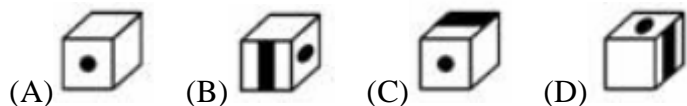
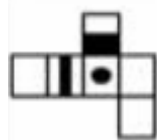
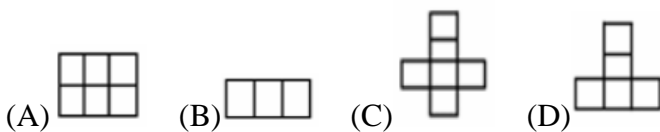
准考證號碼：

注意 事項	<p>1.本試題共 50 題，每題 2 分，總分 100 分，以選擇題四選一方式，每題都有(A)(B)(C)(D)四個答案，其中只有一個答案是正確或最佳答案。答案採用電腦閱卷，請將正確的答案選出，然後使用 2B 黑色鉛筆依規定在答案卡上畫記。答錯者不倒扣，不答者或光學讀卡機無法判讀計分者以零分計。</p> <p>2.本試題空白處，可作草稿使用。不得污損答案卡或在答案卡上顯示自己身分、作任何與答案無關之文字符號。</p> <p>3.請在試題卷首准考證號碼之方格內(本頁右上方)，填上自己的准考證號碼。考完後將「答案卡」及「試題」一併繳回。</p>
----------	--

- 使用瀏覽器(browser)上網瀏覽網頁時，最常用到的網路協定為
(A)SSH (B)HTTP (C)SMTP (D)POP3
- 市面上常見的數位相機，其照片格式最常見的是 (A)UFO (B)PSD (C)JPG (D)EPS
- 下列何者的容量單位最大 (A)1GB (B)1MB (C)1KB (D)1B
- 十進位制的數字 5，轉換為二進位制是 (A)100 (B)101 (C)110 (D)111
- 市面上的智慧型手機(Smartphone)，常見的內建作業系統為
(A)Android (B)iOS (C)Windows Mobile (D)以上皆是
- 假設硬碟的每個區塊(Block)大小為 64KB，若有一個大小為 200KB 的檔案欲儲存於此硬碟，請問至少需要幾個硬碟區塊才夠儲存此檔案？ (A)3 (B)4 (C)8 (D)12
- 一般 MIS 是指 (A)資料處理系統 (B)人力資源管理系統 (C)管理資訊系統 (D)無線網路系統
- 一般常見的 RJ45 網路線，內含幾條芯？ (A)2 條 (B)6 條 (C)8 條 (D)12 條
- 下面關於臉書(Facebook)的敘述，何者正確
(A)是一個線上社群網路服務網站 (B)有許多免費的線上遊戲 (C)可以影音分享 (D)以上皆正確
- 一般而言，下列何者儲存設備的存取速度最快
(A)固態硬碟(SSD) (B)USB2.0 隨身碟 (C)SD 卡(Secure Digital Memory Card) (D)DVD 光碟
- 下列詞語何者與其他三個較不相似？ (A)祠堂 (B)教堂 (C)清真寺 (D)道觀
- 「捶胸頓足」與下列何者意思相近？ (A)胸有成竹 (B)呼天搶地 (C)拍案叫絕 (D)驚心動魄
- 三心：二意 = 四分：____ (A)五味 (B)五體 (C)五裂 (D)五行
- 目光：眼光 = 欣賞：____ (A)觀賞 (B)獎賞 (C)欣喜 (D)欣慰
- C, G, K, O, __ (A)Q (B)S (C)U (D)W
- 3, 7, 17, 39, __ (A)49 (B)53 (C)83 (D)85



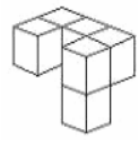
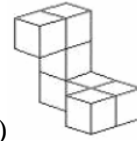
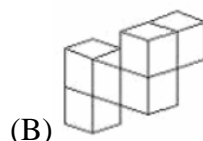
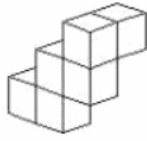
17. 根據這四個圖形  推測第五圖為下列何者？



18. 右圖可折合成下列何者？



19. 右圖中有幾個三角形？ (A)25 (B)30 (C)35 (D)40



20. 下列何者的正立方體最多？ (A)

(B)

(C)

(D)

21. 並不是所有的新竹人都喜歡吃貢丸，這句話表示：

- (A)所有不是新竹人都喜歡吃貢丸 (B)至少有一個新竹人不喜歡吃貢丸
(C)只有一個新竹人不喜歡吃貢丸 (D)所有新竹人都不喜歡吃貢丸

22. 小明、小華、小平、小均四個人中，已知小明比小華高，小平比小均高，小均比小明高，請問四個人之中誰的身高最高？

- (A)小明 (B)小華 (C)小均 (D)小平

23. 有一個皮包以四折賣出，小明花了 40 元買了這個皮包，請問這個皮包的原價是多少？

- (A) 160 (B) 140 (C) 120 (D) 100

24. 如果要將一個蘋果、一個芒果和一個梨子排成一列，請問有幾種不同的排法？

- (A)3 (B)6 (C)8 (D)12

25. 下列那一組代表長度的數字可以組成一個直角三角形？

- (A) {1, 2, 3} (B) {2, 3, 4} (C) {3, 4, 5} (D) {4, 5, 6}

26. 小華的撲滿裡存了五個 1 元、兩個 5 元和三個 10 元共十個硬幣，如果小華從撲滿裡隨便抓出兩個硬幣，請問總金額不可能是多少元？ (A) 9 (B) 6 (C) 10 (D) 20

27. 班上總共有 50 位學生，喜歡籃球的有 35 位，喜歡棒球的有 30 位，請問班上 50 位學生中同時喜好籃球和棒球的最少有多少位？ (A) 35 (B) 30 (C) 5 (D) 15

28. 如果「班上最少有兩位同學生日相同」，則不可能是下列哪一種情況：

- (A)班上最多有兩位同學生日相同 (B)班上剛好只有兩位同學生日相同
(C)班上所有同學生日相同 (D)班上所有同學生日都不相同

29. 小明、小華、小平、小均四個人站成一排，其中小平介於小明與小華之間，小華在小明的右邊，小均在明明的左邊，請問四個人由左而右的排列順序為：

- (A) 小明、小平、小華、小均 (B) 小明、小均、小平、小華
(C) 小均、小明、小平、小華 (D) 小華、小平、小均、小明

30. 時鐘上的時間從 4 點整走到了 6 點整，請問分針總共走了幾圈？ (A)0 (B)1 (C)2 (D)3

31. 世界上第一條地鐵在 1863 年建予何處？ (A)巴黎 (B)紐約 (C)倫敦 (D)柏林

32. 下列有關於政府收入的敘述，哪些是正確的？

- (A)罰金與罰鍰收入為最主要的收入來源 (B)基於「使用者付費」原則所收的費用稱為規費
(C)民眾的八八風災捐款，為政府的財產收入 (D)奢侈稅為稅收收入中的營業稅

33. 第一個諾貝爾獎是頒給哪國人的？ (A)美國人 (B)德國人 (C)英國人 (D)法國人

34. 中秋節吃月餅最初的興起是為了推翻哪一個朝代的統治？ (A)宋朝 (B)漢朝 (C)元朝 (D)清朝

35. 世界上流經國家最多的河流是哪一條？ (A)尼羅河 (B)多瑙河 (C)印度河 (D)亞馬遜河

36. 所有優惠存款辦法或要點主要是由那個政府部門制訂的？

- (A)行政院人事行政局 (B)立法院 (C)考試院銓敘部 (D)財政部

37. 有關「男主外，女主內」之敘述，下列哪一概念最能說明其特性？

- (A)性別刻板印象 (B)性別主流化 (C)性別歧視 (D)性別平等

38. 「消費者保護法」有關郵購買賣得在七天內退貨的規定，是對於以下何種原則的限制？
(A)誠信原則 (B)契約自由 (C)過失責任 (D)依法行政
39. 我國女網選手謝淑薇勇奪「2013年溫布頓網球公開賽」女子雙打冠軍，請問她的搭擋是誰？
(A)彭帥 (B)李娜 (C)詹詠然 (D)莊佳容
40. 2013/7/6 在舊金山國際機場降落時失事並起火燃燒的波音 777 型客機是哪一家航空公司？
(A)華航 (B)日亞航 (C)韓亞航 (D)廈門航空
41. 小華沒有駕駛執照，騎機車超速肇事，使小娟身受重傷是犯了：
(A)無照駕駛 (B)超速駕駛 (C)過失致重傷罪 (D)以上皆是
42. 子軒受朋友之託，寄放贓車並為之隱藏，是觸犯何罪？
(A)竊盜罪 (B)寄藏贓物罪 (C)有朋友道義，不構成犯罪 (D)毀滅贓物罪
43. 信用卡是建立在償債能力的信用上，以一位國中生而言，下列何者為正確？
(A)雖然不能申請信用卡，借用一下又何妨 (B)日後有付款的能力，再去申請信用卡
(C)用父母親的信用卡並模仿他（她）的簽名 (D)先享受後付款，把卡刷爆也沒關係
44. 法律保障創作和發明，下列那一種行為違反著作權法？
(A)偷看別人的書信 (B)模仿人家的簽名 (C)拷貝電腦遊戲程式賣給同學 (D)考試作弊
45. 阿德與小凱為了賺錢，強迫未滿十六歲的小珊、小函從事性交易賺錢供他們花用，請問你，阿德與小凱應負什麼責任？
(A)是小珊與小函自己白痴，阿德與小凱並不犯罪
(B)靠女孩吃飯雖然有些可恥，但既然有錢可賺，並無不可
(C)已違反了兒童及少年性交易防制條例的規定，檢察官會對他們提起公訴
(D)雖然有犯罪，但因小珊、小函未提出告訴，所以檢察官不可對他們提起公訴
46. 當我們遇到詐騙集團時，該撥打哪一個號碼？ (A)1040 (B)0987 (C)1234 (D)165
47. 311 大地震日本何地發生核電廠氫暴？ (A)北海道 (B)福島 (C)蘭嶼 (D)綠島
48. 下列哪一位是蘋果公司的創辦人之一？ (A)賈伯斯 (B)馬英九 (C)陳水扁 (D)李登輝
49. 在速限 50 公里以下路段，發生汽車車禍，應將三角警告牌放在車輛後方幾多少距離？
(A) 30 公尺 (B) 5 公分 (C) 10 公分 (D) 20 公分
50. 小華想買一台數位相機，他分別到大賣場及百貨公司去詢問價格；發現相同一件商品，百貨公司售價為定價先打 9 折，會員優待再打 85 折；而大賣場則先依定價減價 20% 為售價，會員再優待 9 折，則小華應該到那一家買比較划算？
(A)大賣場 (B)百貨公司 (C)都一樣 (D)以上皆非

綜合測驗試題標準答案

題號	答案	題號	答案	題號	答案	題號	答案	題號	答案
1	B	11	A	21	B	31	C	41	D
2	C	12	B	22	D	32	B	42	B
3	A	13	C	23	A	33	B	43	B
4	B	14	A	24	B	34	C	44	C
5	D	15	B	25	C	35	B	45	C
6	B	16	D	26	A	36	C	46	D
7	C	17	D	27	D	37	A	47	B
8	C	18	A	28	D	38	B	48	A
9	D	19	C	29	C	39	A	49	A
10	A	20	C	30	C	40	C	50	A